


prénom : \_\_\_\_\_

date : \_\_\_\_ / \_\_\_\_ / \_\_\_\_

# Fiche n° 11



5 cinq

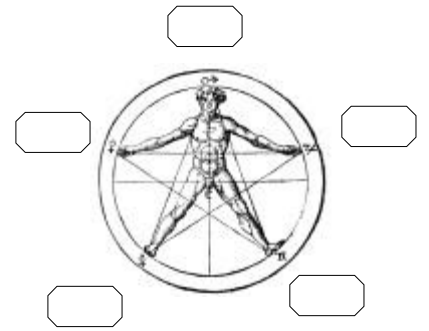
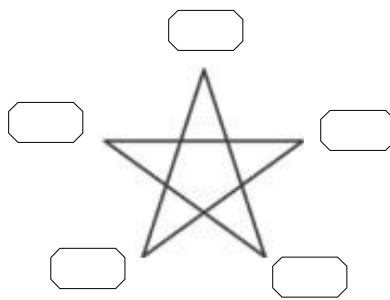



5 €

1 /  Écris une ligne de 4 comme le modèle.

5	5																		
---	---	--	--	--	--	--	--	--	--	--	--	--	--	--	--	--	--	--	--

2 /  Numérote de 1 à 5.



3 /  Entoure des sommes de 5 €.



4 /  Dessine pour avoir ce qui est demandé et  écris l'addition.

5 €		$4 + \underline{\quad} = 5$
5 billes		$3 + \underline{\quad} = 5$
5 sucettes		$2 + \underline{\quad} = 5$