


prénom : _____

date : ____ / ____ / ____

Fiche n° 13



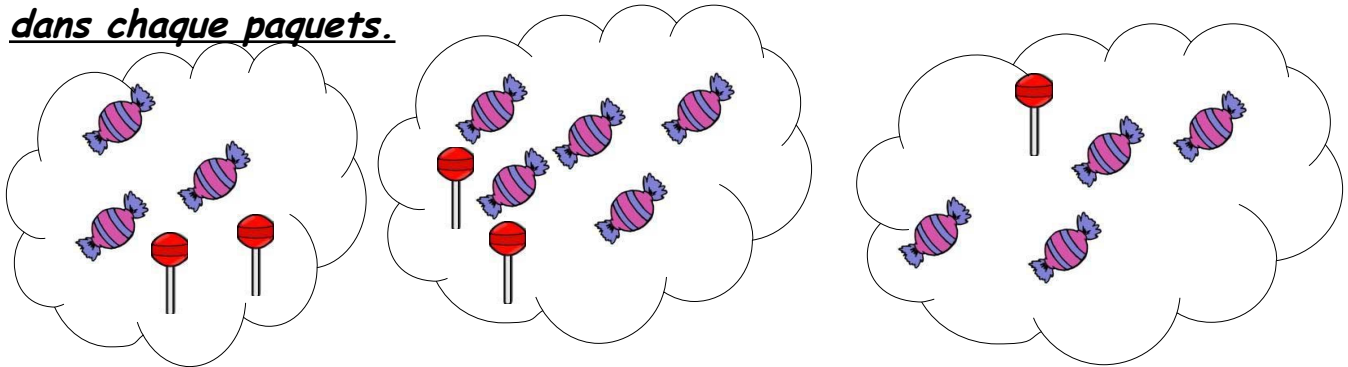
3 bananes

3 poires


Il y a autant de bananes
que de poires.

1 /  Dessine autant d'enfants que de fruits.

2 /  Complète pour qu'il y ait autant de sucettes que de bonbons dans chaque paquets.



3 /  Barre pour avoir autant de carottes que de lapins.



4 /  Calcule en ligne.

1 + ___ = 5	2 + ___ = 5	3 + ___ = 5
5 - ___ = 5	5 - ___ = 4	5 - ___ = 0