


prénom : _____

date : ____ / ____ / ____

Fiche n° 14



6 six



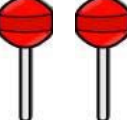


6 €

1 /  Écris une ligne de 6 comme le modèle.

6	6								






2 /  Dessine pour avoir ce qui est demandé et $1+1$  écris l'addition.

6 €		$5 + \underline{\quad} = 6$
6 billes		$3 + \underline{\quad} = 6$
6 sucettes		$2 + \underline{\quad} = 6$

3 /  Entoure des sommes de 6 €.



4 / $1+1$  Calcule en colonnes.

4	2	5	1	3
+ 	+ 	+ 	+ 	+ 
6	6	6	6	6

5 / $1+1$  Calcule en colonnes.

6	6	6	6	6
- 4	- 2	- 3	- 5	- 1
