



prénom : _____


date : ____ / ____ / ____

Fiche n° 16 - Problèmes

① / Romain a 3 paires de chaussures. Combien a-t-il de chaussures ?

| | | |
|--|---|---|
|  Dessine pour représenter le problème. | $1+1$  Écris le calcul correspondant | mot  Écris la réponse. |
| | le double de ____ = ____ | Romain a ____ chaussures. |




② / Louis a 2 couples d'hirondelles. Combien a-t-il d'hirondelles ?

| | | |
|--|---|---|
|  Dessine pour représenter le problème. | $1+1$  Écris le calcul correspondant | mot  Écris la réponse. |
| | le double de ____ = ____ | Louis a ____ hirondelles. |

③ / Louis achète 4 bagues. Il en offre autant à Léa qu'à Laly.
Combien chaque fille aura de bagues ?

| | | |
|---|---|---|
|  | $1+1$  | mot  |
| | la moitié de ____ = ____ | Chaque fille aura ____ bagues. |

④ / Maman a 6 billes. Elle les partage entre ses 2 enfants.
Combien chaque enfant aura-t-il de billes ?

| | | |
|---|---|---|
|  | $1+1$  | mot  |
| | la moitié de ____ = ____ | Chaque enfant aura ____ billes. |