




prénom : \_\_\_\_\_




date : \_\_\_\_ / \_\_\_\_ / \_\_\_\_

## Fiche n° 17 - Problèmes




- ① / Louis a 3 billes dans la main droite et autant dans la main gauche.  
Combien a-t-il de billes ?

	$1+1=$ 	mot 
		Louis a ____ billes.




- ② / Julien a 4 billes dans la main droite et une de moins dans la main gauche.  
Combien a-t-il de billes ?

	$1+1=$ 	mot 
		Julien a ____ billes.

- ③ / Valérie a 2 billes dans la main droite. En tout, elle a 6 billes.  
Combien a-t-elle de billes dans la main gauche ?

	$1+1=$ 	mot 
		Valérie a ____ billes dans la main gauche.

- ④ / Papa a 8 billes. Il en donne autant à chacun de ses 2 enfants.  
Combien chaque enfant aura-t-il de billes ?

	$1+1=$ 	mot 
		Chaque enfant aura ____ billes.