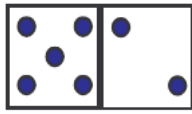


prénom : _____

date : ____ / ____ / ____

Fiche n° 18



7 sept



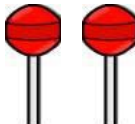


7 €

1 /  Écris une ligne de 7 comme le modèle.

7 7 _____

2 /  Dessine pour avoir ce qui est demandé et  écris l'addition.

7 €		$5 + \underline{\quad} = 7$
7 billes		$3 + \underline{\quad} = 7$
7 sucettes		$2 + \underline{\quad} = 7$

3 /  Entoure des sommes de 7 €.



4 /  Calcule en ligne.

$5 + 2 = \underline{\quad}$ $2 + 4 = \underline{\quad}$ $3 + 3 = \underline{\quad}$

$7 - 1 = \underline{\quad}$ $7 - 3 = \underline{\quad}$ $6 - 2 = \underline{\quad}$

5 /  Calcule en colonnes.

4	7	1	6	7
+ 1	- 4	+ 6	- 1	- 2
-----	-----	-----	-----	-----
