

prénom : _____

date : ____ / ____ / ____


Fiche n° 20

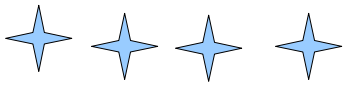


colorie en jaune le nain du milieu - colorie en bleu les nains de droite - colorie en rouge les nains de gauche

gauche milieu droite

$$\underline{\quad} + \underline{\quad} + \underline{\quad} = \underline{\quad} \quad \left. \vphantom{\underline{\quad} + \underline{\quad} + \underline{\quad} = \underline{\quad}} \right\} 2 \text{ fois } \underline{\quad} \text{ et } \underline{\quad} = \underline{\quad}$$

1 /  Entoure les objets par groupe de 2.



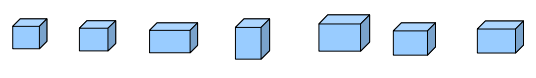
$$\underline{\quad} + \underline{\quad} = \underline{\quad}$$

___ fois ___



$$\underline{\quad} + \underline{\quad} + \underline{\quad} = \underline{\quad}$$

___ fois ___



$$\underline{\quad} + \underline{\quad} + \underline{\quad} + \underline{\quad} = \underline{\quad}$$

___ fois ___ et ___

2 /  Dessine ce qui manque et $1+1...$  écris l'opération.



Cet avion coûte 7 €.

a)   = 7 €

$$1 + 1 + 1 + 1 + 1 + 1 + \underline{\quad} = 7$$

b)   = 7 €

$$2 + 2 + 1 + \underline{\quad} = 7$$

c)   = 7 €

$$5 + \underline{\quad} = 7$$

d)   = 7 €

$$1 + 1 + 1 + 2 + \underline{\quad} = 7$$

e)   = 7 €

$$2 + 2 + 1 + 1 + \underline{\quad} = 7$$