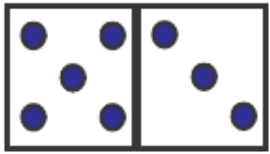


prénom : _____

date : ____ / ____ / ____

Fiche n° 21




8 huit



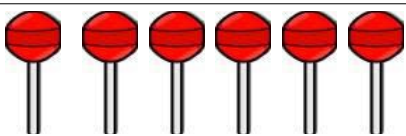


8€

1 /  **Écris une ligne de 8 comme le modèle.**

8	8										
---	---	--	--	--	--	--	--	--	--	--	--

2 /  **Dessine pour avoir ce qui est demandé et $1+1$  écris l'addition.**

8 €		$5 + \underline{\quad} = 8$
8 billes		$4 + \underline{\quad} = 8$
8 sucettes		$6 + \underline{\quad} = 8$

3 /  **Entoure des sommes de 8 €.**



4 / $1+1$  **Calcule en ligne.**

$8 - 2 = \underline{\quad}$	$8 - 3 = \underline{\quad}$	$8 - 1 = \underline{\quad}$
$8 - 4 = \underline{\quad}$	$8 - 5 = \underline{\quad}$	$8 - 6 = \underline{\quad}$

5 / $1+1$  **Calcule en colonnes.**

$\begin{array}{r} 4 \\ + 3 \\ \hline \end{array}$	$\begin{array}{r} 8 \\ - 4 \\ \hline \end{array}$	$\begin{array}{r} 5 \\ + 1 \\ \hline \end{array}$	$\begin{array}{r} 8 \\ - 3 \\ \hline \end{array}$	$\begin{array}{r} 8 \\ - 1 \\ \hline \end{array}$
---	---	---	---	---