

prénom : _____


date : ____ / ____ / ____

Fiche n° 23

1 / Pour savoir sur quelle plage il y a le plus de parasols,


Forme des groupes de 10 puis compte le nombre de groupe de 10 puis compte le nombre de parasol qui ne sont pas dans un groupe :

A

10	



B

10	



Sur la plage A, il y a ____ parasols.

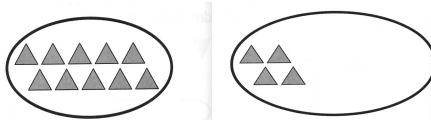
Sur la plage B, il y a ____ parasols.

____ > ____




Il y a plus de parasols sur la plage ____.

2 / Lis le tableau et complète le dessin.

Dizaines	Unités
3	3



3 / Entoure par 10, puis écris les nombres.

	<table border="1" style="width: 100%; border-collapse: collapse;"> <tr> <th style="padding: 5px;">dizaines</th> <th style="padding: 5px;">unités</th> </tr> <tr> <td style="height: 40px;"></td> <td style="height: 40px;"></td> </tr> </table>	dizaines	unités		
dizaines	unités				
	<table border="1" style="width: 100%; border-collapse: collapse;"> <tr> <th style="padding: 5px;">dizaines</th> <th style="padding: 5px;">unités</th> </tr> <tr> <td style="height: 40px;"></td> <td style="height: 40px;"></td> </tr> </table>	dizaines	unités		
dizaines	unités				
	<table border="1" style="width: 100%; border-collapse: collapse;"> <tr> <th style="padding: 5px;">dizaines</th> <th style="padding: 5px;">unités</th> </tr> <tr> <td style="height: 40px;"></td> <td style="height: 40px;"></td> </tr> </table>	dizaines	unités		
dizaines	unités				