

prénom : _____




date : ____ / ____ / ____

Fiche n° 25 - Problèmes




- ① / Lola a 5 billes dans sa poche. Elle prend une bille dans chaque main.
Combien lui reste-t-il de billes dans sa poche ?

	$1+1=$ 	mot 
		Il lui reste ____ billes dans sa poche.




- ② / Lou a 5 € dans son porte-monnaie. Papa lui donne 2 €
Combien a-t-il d'euros maintenant ?

	$1+1=$ 	mot 
		Lou a ____ € dans son porte-monnaie.

- ③ / Maman achète 10 bonbons. Elle les distribue à ses 5 enfants.
Combien chaque enfant reçoit-il de bonbons ?

	$1+1=$ 	mot 
		Chaque enfant reçoit ____ bonbons.

- ④ / Le tonton de Paul a 5 paires de boules de pétanque.
Combien y a-t-il de boules dans le jeu de pétanque ?

	$1+1=$ 	mot 
		Il y a ____ boules dans le jeu.