




prénom : _____




date : ____ / ____ / ____

Fiche n° 29 - Problèmes




- ① / Le parking d'une boulangerie a 10 places. 2 voitures sont déjà garées.
Combien reste-t-il de place sur le parking ?

	$1+1$ 	mot 
	_____ = _____	Il reste ____ places sur le parking.




- ② / 2 voitures sont garées dans le parking. 6 autres voitures arrivent.
Combien y a-t-il de voitures dans le parking maintenant ?

	$1+1$ 	mot 
	_____ = _____	Il y a ____ voitures dans le parking.

- ③ / 5 enfants jonglent. Ils ont chacun 2 balles.
Combien ont-ils de balles tous ensemble ?

	$1+1$ 	mot 
	_____ = _____	Ils ont ____ balles à eux 5.

- ④ / Théo a 10 images. Mais il en perd 3.
Combien a-t-il d'images maintenant ?

	$1+1$ 	mot 
	_____ = _____	Théo a ____ images.