


prénom : _____

date : ____ / ____ / ____


Fiche n° 4



3 trois



3€



3€

Ce ballon coute trois euros.



=



1€ + 1€ + 1€ = 2€ + 1€ = 3€

1 / Entoure : 2 paires de chaussettes, 3 avions, 1 papillon, 3 fleurs.



2 / Écris le nombre d'objets que tu vois dans l'exercice 1.


Il y a ____



, ____



, ____



, ____



3 / Écris une ligne de 3 comme le modèle.

3 3

4 / Dessine :

