




prénom : _____











date : ____ / ____ / ____

Fiche n° 5

1 /  Dessine les billes pour représenter le calcul (comme les exemples).

$1 + 1 = 2$ 	$2 - 2 = 0$	$3 - 1 = 2$ 	$1 + 2 = 3$
$2 + 1 = 3$	$3 - 0 = 3$	$0 + 1 = 1$	$2 - 1 = 1$

2 /  Écris le calcul qui correspond au dessin.

 = 	 = _____	 = _____	 = _____
 = 	 = _____	 = _____	 = _____

3 /  Entoure des sommes de 3€.



4 /  Calcule en ligne.

$2 + 1 = \underline{\quad}$	$1 + 2 = \underline{\quad}$
$3 - 1 = \underline{\quad}$	$1 + 1 = \underline{\quad}$
$3 - 2 = \underline{\quad}$	$2 + 1 = \underline{\quad}$