

prénom : _____




date : ____ / ____ / ____

Fiche n° 7 - Problèmes




- 1 / Romain a 4 billes. Il en donne une à son ami.
Combien reste-t-il de billes à Romain ?

 <u>Dessine pour représenter le problème.</u>	 <u>1+1...</u> <u>Écris le calcul correspondant</u>	 <u>mot</u> <u>Écris la réponse.</u>
	$4 - 1 = 3$	Il lui reste 3 billes.




- 2 / Louis a 3 cerises. Il en mange 2.
Combien reste-t-il de cerises à Louis ?

 <u>Dessine pour représenter le problème.</u>	 <u>1+1...</u> <u>Écris le calcul correspondant</u>	 <u>mot</u> <u>Écris la réponse.</u>
	$3 - 2 = 1$	Il lui reste 1 cerises.

- 3 / Alice a 1 bonbon. Sa maman lui donne 3 autres bonbons.
Combien Alice a-t-elle de bonbons ?

 <u>Dessine pour représenter le problème.</u>	 <u>1+1...</u> <u>Écris le calcul correspondant</u>	 <u>mot</u> <u>Écris la réponse.</u>
	$1 + 3 = 4$	Alice a 4 bonbons.

- 4 / Marion a dessiné 2 carrés bleus et 2 carrés rouges.
Combien Marion a-t-elle dessiné de carrés ?

 <u>Dessine pour représenter le problème.</u>	 <u>1+1...</u> <u>Écris le calcul correspondant</u>	 <u>mot</u> <u>Écris la réponse.</u>
	$2 + 2 = 4$	Elle a dessiné 4 carrés.