






prénom : \_\_\_\_\_

date : \_\_\_\_ / \_\_\_\_ / \_\_\_\_

## Fiche n° 8



1 /  **Calcule en colonne.**


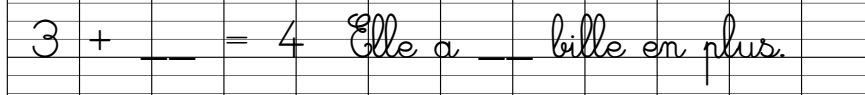
3	1	2	2	2
+ 1	+ 2	- 1	- 2	+ 2
-----	-----	-----	-----	-----
				


2 /  **Calcule en ligne.**







3	+	0	=	___	2	+	1	=	___
3	+	1	=	___	4	-	2	=	___
3	-	2	=	___	2	+	2	=	___


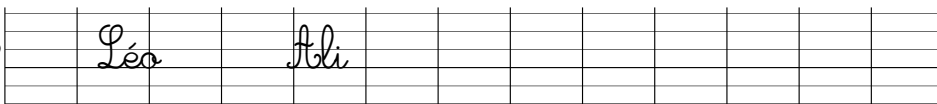
3 / **Marie a 4 billes**     **Lola en a 3**   

 **Qui a le plus de billes ?**  Lola Marie

 **Combien en a-t-elle en plus ?**   $3 + \underline{\quad} = 4$  Elle a    bille en plus.

 **Quelle est la différence ?**   $4 - 3 = \underline{\quad}$  La différence est de    bille.

4 / **Ali a 2 crayons**   **Léo en a 4**    

 **Qui a le plus de crayons ?**  Léo Ali

 **Combien en a-t-il en plus ?**   $2 + \underline{\quad} = 4$  Il a    crayons en plus.

 **Quelle est la différence ?**   $4 - 2 = \underline{\quad}$  La différence est de    crayons.