

prénom : \_\_\_\_\_


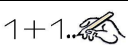

date : \_\_\_\_ / \_\_\_\_ / \_\_\_\_

## Fiche n° 9 - Problèmes


- 1 / Marie avait 3 bagues. Elle en a perdu une.  
Combien reste-t-il de bagues à Marie ?

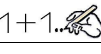
 Dessine pour représenter le problème.	 $1+1...$ Écris le calcul correspondant	 mot Écris la réponse.
	$3 - 1 = 2$	Il lui reste 2 bagues.

- 2 / J'ai 3 billes dans une main et 1 bille dans l'autre main.  
Combien ai-je de billes en tout ?

 Dessine pour représenter le problème.	 $1+1...$ Écris le calcul correspondant	 mot Écris la réponse.
	$3 + 1 = 4$	J'ai 4 billes en tout.


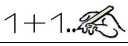

- 3 / Irma a 3 cartes et Lali a 1 carte.

 mot Qui a le plus de cartes ? Irma Lali

  $1+1...$  Combien en a-t-elle en plus ?  $1 + 2 = 3$  Elle a 2 cartes en plus.

  $1+1...$  Quelle est la différence ?  $3 - 1 = 2$  La différence est de 2 cartes.

- 4 / Maman a 2 pièces de 2 €.  
Combien maman a-t-elle d'argent ?

	 $1+1...$	 mot
	$2 + 2 = 4$	Maman a 4 €.